

TES EVALUASI MATEMATIKA KELAS 2 SD

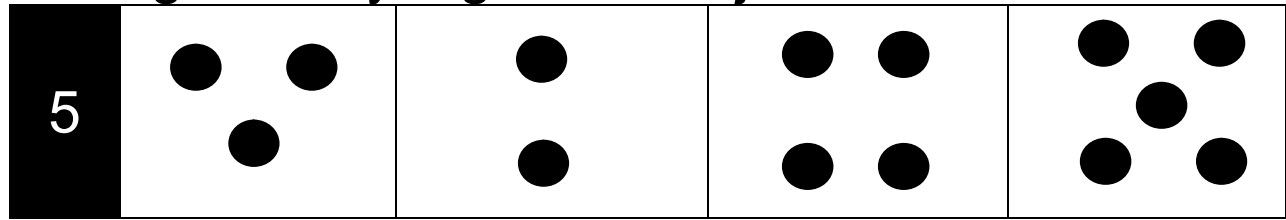
1	6	9	2	4
---	---	---	---	---

2	18	14	19	16
---	----	----	----	----

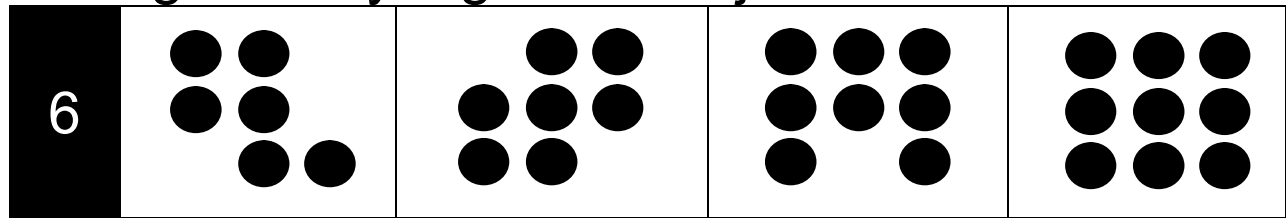
3	49	48	46	36
---	----	----	----	----

4	85	73	63	72
---	----	----	----	----

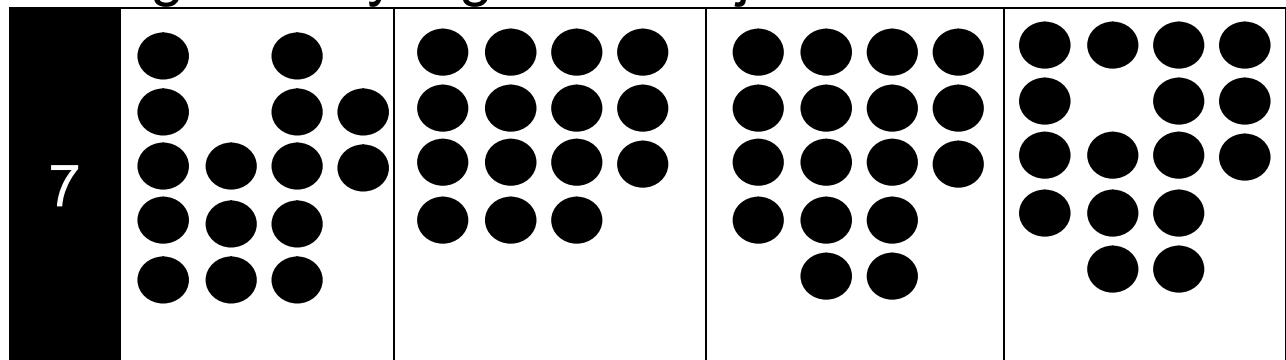
Pilih gambar yang memiliki jumlah 5 bulatan




Pilih gambar yang memiliki jumlah 8 bulatan



Pilih gambar yang memiliki jumlah 17 bulatan



8				
	36	35	37	38

CATATAN: Gunakan alat bantu *showcard* yang terdapat pada lampiran untuk membantu menjelaskan soal berikut (Apabila anak sudah bisa mengurutkan tanpa menggunakan *showcard*, administrator bisa langsung melanjutkan pertanyaan tanpa menunjukkan *showcard*)

9

susunan kartu angka dari yang paling kecil ke yang paling besar adalah....

5

8

17

42

8

5

17

42

5

17

42

8

8

42

17

5

CATATAN: Gunakan alat bantu *showcard* yang terdapat pada lampiran untuk membantu menjelaskan soal berikut (Apabila anak sudah bisa mengurutkan tanpa menggunakan *showcard*, administrator bisa langsung melanjutkan pertanyaan tanpa menunjukkan *showcard*)

10

Kartu dengan urutan dari **yang terbesar sampai terkecil** adalah...

16

42

17

16

17

42

42

17

16

17

16

42

11

Kartu dengan bilangan yang **paling besar** adalah...

46

58

84

63

12	$\begin{array}{r} 20 \\ \underline{16} + \\ \dots \end{array}$		
25	36	35	26

13	$\begin{array}{r} 17 \\ \underline{10} + \\ \dots \end{array}$		
26	16	27	17

14	$\begin{array}{r} 55 \\ \underline{43} + \\ \dots \end{array}$		
88	34	98	12

15	$\begin{array}{r} 22 \\ \underline{37} + \\ \dots \end{array}$		
59	51	11	25

16	$\begin{array}{r} 73 \\ \underline{25} + \\ \dots \end{array}$		
98	92	82	88

17	$\begin{array}{r} 19 \\ \underline{5} - \\ \dots \end{array}$		
14	15	5	4

18	$\begin{array}{r} 15 \\ \underline{13} - \\ \dots \end{array}$		
1	11	2	12

19	$\begin{array}{r} 14 \\ \underline{12} - \\ \dots \end{array}$		
26	12	16	2

20	$\begin{array}{r} 97 \\ \underline{66} \\ \dots \end{array}$		
	23	33	97
			31

21	$\begin{array}{r} 56 \\ \underline{32} \\ \dots \end{array}$		
	24	28	88
			84

22	$\begin{array}{r} 83 \\ \underline{42} \\ \dots \end{array}$		
	51	55	41
			45

23	$\begin{array}{r} 75 \\ \underline{21} \\ \dots \end{array}$		
	42	44	52
			54

24	$\begin{array}{r} 345 \\ \underline{103} + \\ \dots \end{array}$		
242	348	442	448

25	$\begin{array}{r} 148 \\ \underline{32} + \\ \dots \end{array}$		
76	80	176	180

26	$\begin{array}{r} 158 \\ \underline{71} + \\ \dots \end{array}$		
139	109	229	39

27	$\begin{array}{r} 175 \\ \underline{38} - \\ \dots \end{array}$		
43	37	143	137

28	$\begin{array}{r} 431 \\ 301 \\ \hline \end{array}$		
	...		
	130	220	120
			230


29	$\begin{array}{r} 274 \\ 152 \\ \hline \end{array}$		
	...		
	122	126	322
			326

30	$\begin{array}{r} 152 \\ 24 \\ \hline \end{array} +$		
	...		
	573	176	194
			392

---SELESAI---

LAMPIRAN

Potong kotak di bawah ini untuk membantu menyampaikan soal nomor 9 di buku tes!



5	8
17	42

Potong kotak di bawah ini untuk membantu menyampaikan soal nomor 10 di buku tes!



16	17	42
----	----	----