

TES EVALUASI MATEMATIKA

KELAS 1 SD

1	6	9	2	4
---	---	---	---	---

2	15	12	13	17
---	----	----	----	----

3	18	14	19	16
---	----	----	----	----

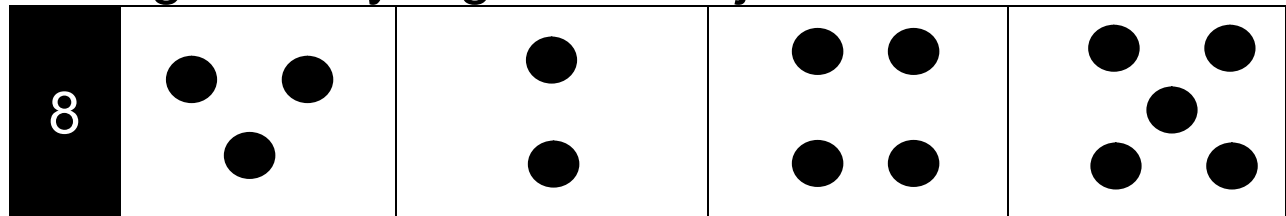
4	49	48	46	36
---	----	----	----	----

5	65	68	56	95
---	----	----	----	----

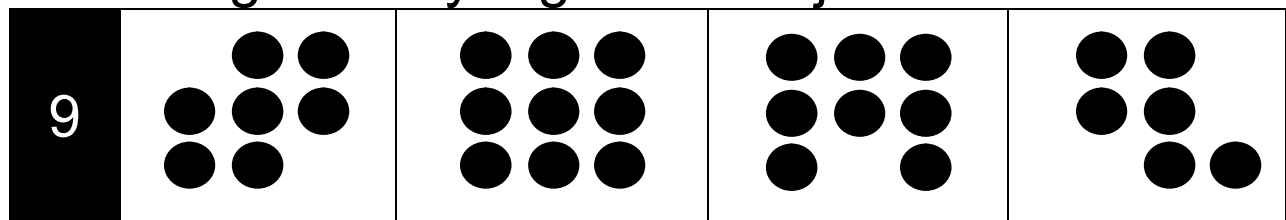
6	85	73	63	72
---	----	----	----	----

7	49	48	46	36
---	----	----	----	----

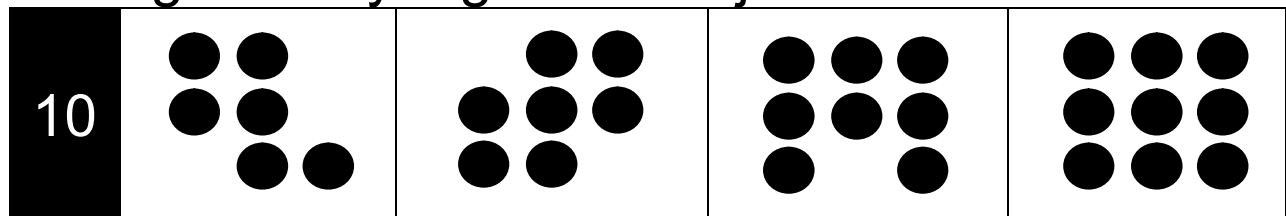
Pilih gambar yang memiliki jumlah 5 bulatan





Pilihlah gambar yang memiliki jumlah 7 bulatan




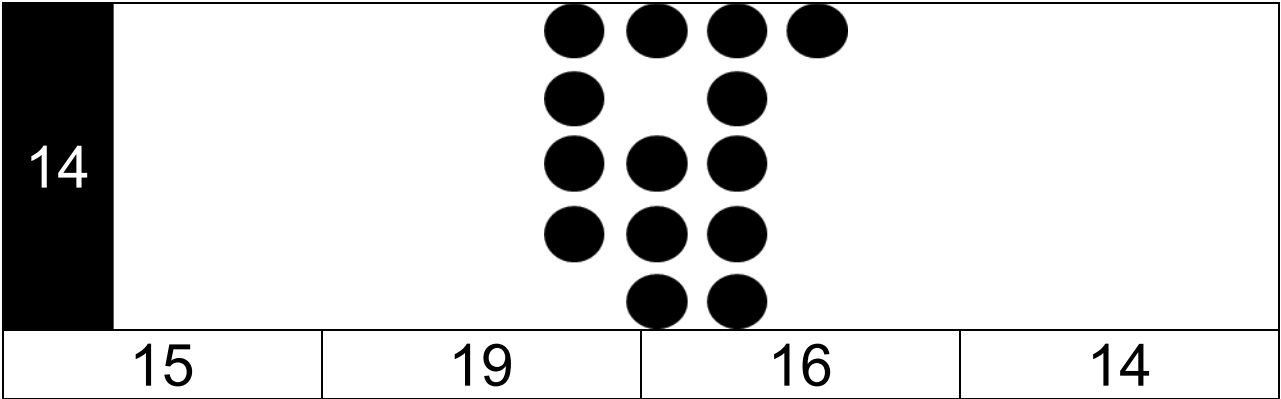
Pilih gambar yang memiliki jumlah 8 bulatan



11				
	16	18	17	19

12				
	15	16	18	17

13				
	36	35	37	38



15

Kartu dengan angka yang **paling besar** adalah...

46

58

84

63

CATATAN: Gunakan alat bantu *showcard* yang terdapat pada lampiran untuk membantu menjelaskan soal berikut (Apabila anak sudah bisa mengurutkan tanpa menggunakan *showcard*, administrator bisa langsung melanjutkan pertanyaan tanpa menunjukkan *showcard*)

16

Kartu dengan urutan dari **yang terkecil sampai terbesar** adalah...

2

3

4

5

3

4

2

5

5

4

3

2

4

5

2

3

CATATAN: Gunakan alat bantu *showcard* yang terdapat pada lampiran untuk membantu menjelaskan soal berikut (Apabila anak sudah bisa mengurutkan tanpa menggunakan *showcard*, administrator bisa langsung melanjutkan pertanyaan tanpa menunjukkan *showcard*)

17

Kartu dengan urutan dari **yang terbesar sampai terkecil** adalah...

16

42

17

16

17

42

42

17

16

17

16

42

18	$\begin{array}{r} 7 \\ 0 \\ \hline \dots \end{array} +$		
	6	0	70

19	$\begin{array}{r} 15 \\ 4 \\ \hline \dots \end{array} +$		
	11	9	18

20	$\begin{array}{r} 20 \\ 16 \\ \hline \dots \end{array} +$		
	25	36	35

21	$\begin{array}{r} 17 \\ 10 \\ \hline \dots \end{array} +$		
	26	16	27

22	$\begin{array}{r} 19 \\ - 5 \\ \hline \dots \end{array}$		
	14	5	15
			4

23	$\begin{array}{r} 5 \\ - 3 \\ \hline \dots \end{array}$		
	1	2	11
			12

24	$\begin{array}{r} 14 \\ - 12 \\ \hline \dots \end{array}$		
	26	12	16
			2

25	$\begin{array}{r} 55 \\ 43 \\ \hline \end{array} +$		
	88	34	98

26	$\begin{array}{r} 22 \\ 37 \\ \hline \end{array} +$		
	59	51	11

27	$\begin{array}{r} 73 \\ 25 \\ \hline \end{array} +$		
	98	92	82

28	$\begin{array}{r} 15 \\ 82 \\ \hline \end{array} +$		
	93	83	97

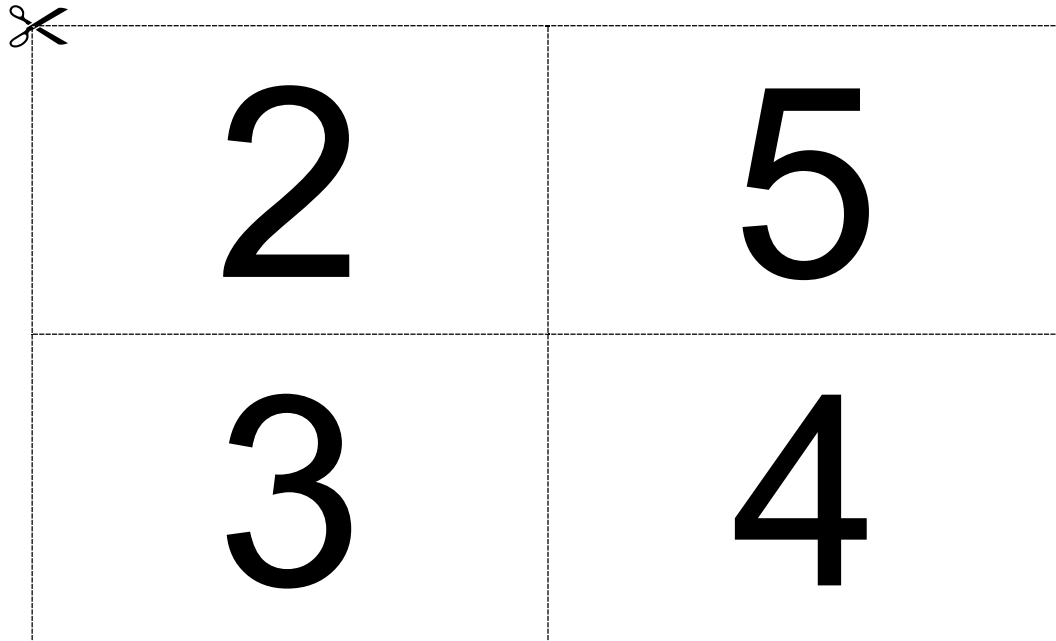
29	$\begin{array}{r} 83 \\ 42 \\ \hline \dots \end{array}$		
	51	55	41
			45

30	$\begin{array}{r} 75 \\ 21 \\ \hline \dots \end{array}$		
	42	44	52
			54

---SELESAI---

LAMPIRAN

Potong kotak di bawah ini untuk membantu menyampaikan soal nomor 16 di buku tes!



Potong kotak di bawah ini untuk membantu menyampaikan soal nomor 17 di buku tes!

