

TES EVALUASI MATEMATIKA

KELAS 2 SD

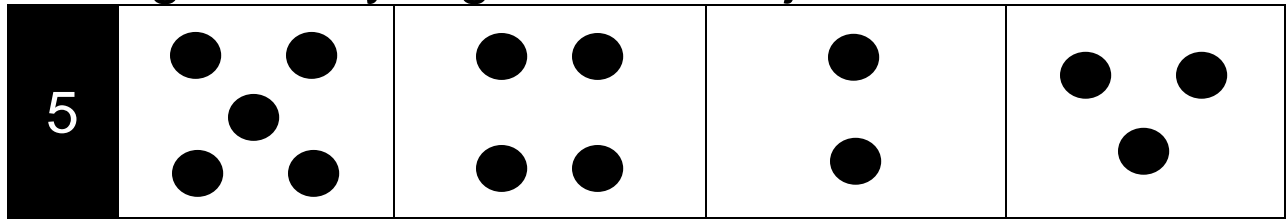
1	4	2	9	6
---	---	---	---	---

2	16	19	14	18
---	----	----	----	----

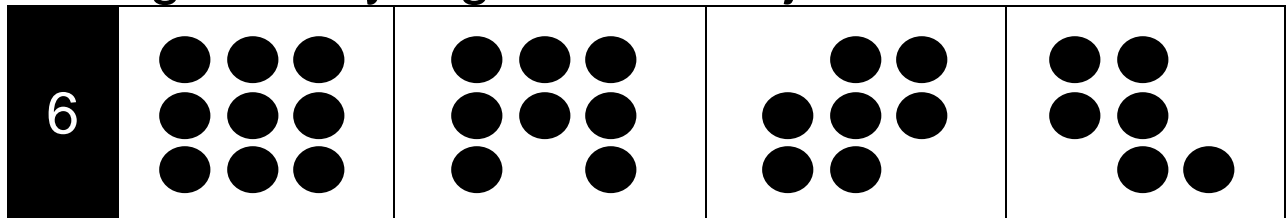
3	36	46	48	49
---	----	----	----	----

4	72	63	73	85
---	----	----	----	----

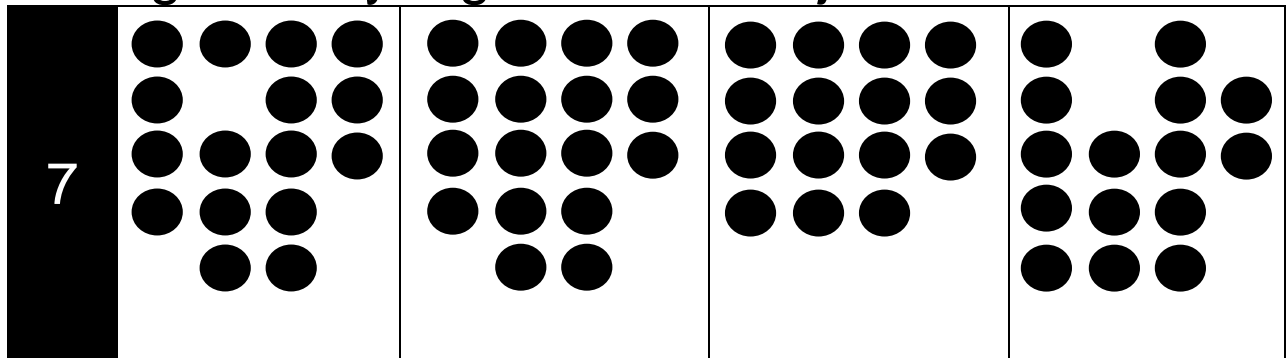
Pilih gambar yang memiliki 5 jumlah bulatan




Pilih gambar yang memiliki 8 jumlah bulatan



Pilih gambar yang memiliki 17 jumlah bulatan



8				
	39	40	41	42

CATATAN: Gunakan alat bantu *showcard* yang terdapat pada lampiran untuk membantu menjelaskan soal berikut (Apabila anak sudah bisa mengurutkan tanpa menggunakan *showcard*, administrator bisa langsung melanjutkan pertanyaan tanpa menunjukkan *showcard*)

9

susunan kartu angka dari yang paling kecil ke yang paling besar adalah....

8

42

5

17

5

17

8

42

8

5

17

42

5

8

17

42

Perhatikan gambar kartu di bawah ini!

CATATAN: Gunakan alat bantu *showcard* yang terdapat pada lampiran untuk membantu menjelaskan soal berikut (Apabila anak sudah bisa mengurutkan tanpa menggunakan *showcard*, administrator bisa langsung melanjutkan pertanyaan tanpa menunjukkan *showcard*)

17	16	42
----	----	----

10	Kartu dengan urutan dari yang terbesar sampai terkecil adalah...	
-----------	---	--

17	16	42
----	----	----

42	17	16
----	----	----

16	17	42
----	----	----

16	42	17
----	----	----

11

Kartu dengan angka yang **paling besar** adalah...

46

69

36

59

12	$\begin{array}{r} 20 \\ \underline{16} + \\ \dots \end{array}$		
	26	35	36
			25

13	$\begin{array}{r} 17 \\ \underline{10} + \\ \dots \end{array}$		
	17	27	16
			26

14	$\begin{array}{r} 55 \\ \underline{43} + \\ \dots \end{array}$		
	12	98	34
			88

15	$\begin{array}{r} 25 \\ \underline{34} + \\ \dots \end{array}$		
	51	25	61
			59

16	$\begin{array}{r} 73 \\ \underline{25} + \\ \dots \end{array}$		
88	82	92	98

17	<div>19 <u>5</u> _ ...</div>		
	4	5	15
			14

18	<div>15 <u>13</u> _ ...</div>		
	12	2	11
			1

19	<div>18 <u>11</u> _ ...</div>		
	7	27	17
			29

20	$\begin{array}{r} 97 \\ 66 \\ \hline \dots \end{array}$		
	31	97	33
			23

21	$\begin{array}{r} 56 \\ 32 \\ \hline \dots \end{array}$		
	84	88	28
			24

22	$\begin{array}{r} 83 \\ 42 \\ \hline \dots \end{array}$		
	45	41	55
			51

23	$\begin{array}{r} 75 \\ 21 \\ \hline \dots \end{array}$		
	54	52	44
			42

24	$\begin{array}{r} 336 \\ \underline{131} + \\ \dots \end{array}$		
	467	367	456
			356

25	$\begin{array}{r} 148 \\ \underline{32} + \\ \dots \end{array}$		
	180	176	80
			76

26	$\begin{array}{r} 158 \\ \underline{71} + \\ \dots \end{array}$		
	39	229	109
			139

27	$\begin{array}{r} 175 \\ \underline{38} - \\ \dots \end{array}$		
	137	143	37
			43

28	$\begin{array}{r} 431 \\ 301 \\ \hline \dots \end{array}$		
	230	120	220
			130


29	$\begin{array}{r} 232 \\ 111 \\ \hline \dots \end{array}$		
	119	319	121
			321

30	$\begin{array}{r} 152 \\ 24 \\ \hline \dots \end{array} +$		
	392	194	176
			572

---SELESAI---


LAMPIRAN

Potong kotak di bawah ini untuk membantu menyampaikan soal nomor 9 di buku tes!



5	8
17	42

Potong kotak di bawah ini untuk membantu menyampaikan soal nomor 10 di buku tes!



16	17	42
----	----	----